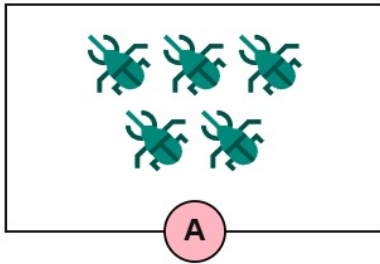


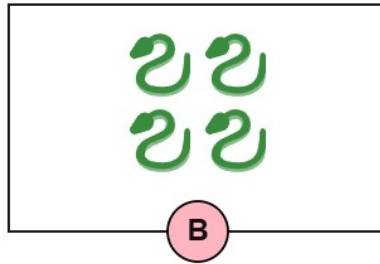
MEMBANDINGKAN JUMLAH HEWAN

Tentukan mana hewan yang lebih banyak atau lebih sedikit.

1.



A

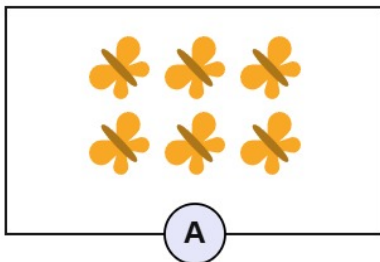


B

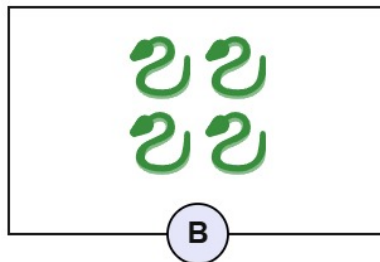
Manakah yang jumlahnya lebih banyak :

Manakah yang jumlahnya lebih sedikit :

2.



A

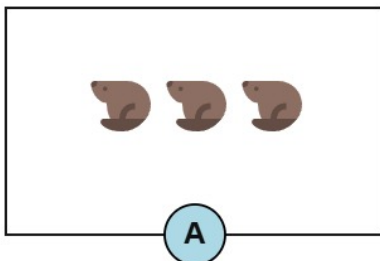


B

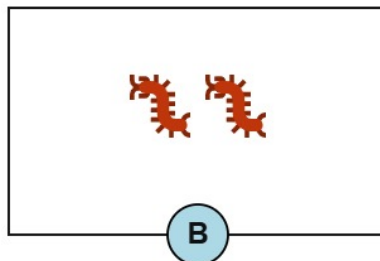
Manakah yang jumlahnya lebih banyak :

Manakah yang jumlahnya lebih sedikit :

3.



A

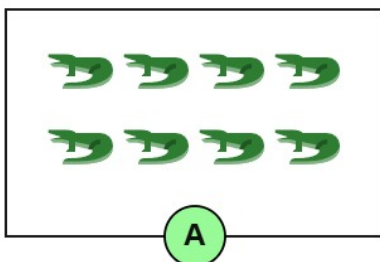


B

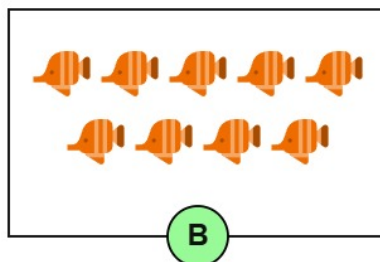
Manakah yang jumlahnya lebih banyak :

Manakah yang jumlahnya lebih sedikit :

4.



A

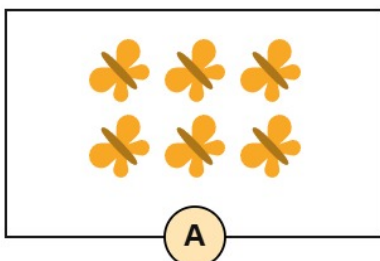


B

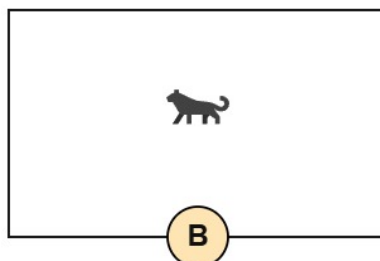
Manakah yang jumlahnya lebih banyak :

Manakah yang jumlahnya lebih sedikit :

5.



A



B

Manakah yang jumlahnya lebih banyak :

Manakah yang jumlahnya lebih sedikit :

Nama :

Kelas :

Nilai



Kunci Jawaban:

1. Manakah yang jumlahnya lebih banyak : A
Manakah yang jumlahnya lebih sedikit: B
2. Manakah yang jumlahnya lebih banyak : A
Manakah yang jumlahnya lebih sedikit: B
3. Manakah yang jumlahnya lebih banyak : A
Manakah yang jumlahnya lebih sedikit: B
4. Manakah yang jumlahnya lebih banyak : B
Manakah yang jumlahnya lebih sedikit: A
5. Manakah yang jumlahnya lebih banyak : A
Manakah yang jumlahnya lebih sedikit: B